

ACTIVIDADES DE MATEMÁTICA PARA LOS ALUMNOS DE CUARTO GRADO T. MAÑANA -ESC. N° 298 - MELIPAL. -

DOCENTE: CASTILLO, Diego.

FECHA: 22/03/21.-

REPASAMOS CALCULANDO

RESOLVER las siguientes situaciones problemática sin hacer las cuentas.

- La mamá de Aron tiene \$873 y gastó, en el supermercado, \$655.
¿Es cierto que le quedan menos de \$200?

Respuesta:

- Un grupo de 40 turistas tiene que dividirse en 8 grupos de igual cantidad de personas para entrar a visitar un museo.
¿Es cierto que cada grupo estará formado por 5 personas?

Respuesta:

- Nicolás tenía \$200 en billetes de 100 en su billetera. Su mamá le regaló 3 billetes más de \$50.

¿Es cierto que ahora tiene más de \$300?

RESPUESTA

- Si hay 2 cajones con 15 manzanas en cada uno y sacamos 12 manzanas de cada cajón, ¿es cierto que quedan menos de 10 manzanas entre los 2 cajones?

Respuesta:

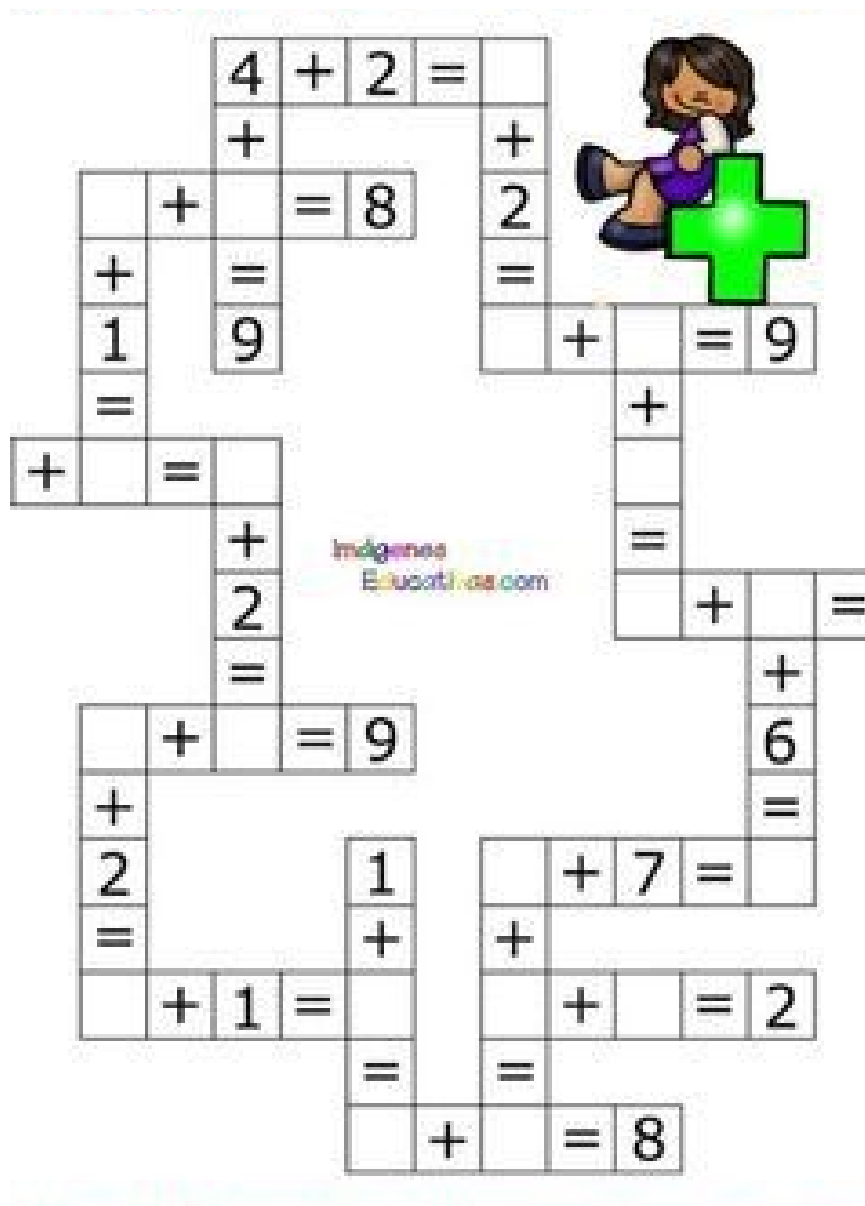
EN LA SIGUIENTE ACTIVIDAD DEBERÁS ESCRIBIR EN LETRAS LOS SIGUIENTES NÚMEROS.

- 145:
-
- 231:
-
- 328:
-
- 452:
-
- 549
-
- 673:
-
- 791:
-
- 835:
-
- 957:

EN LA SIGUIENTE TAREAS DEBERÁS ESCRIBIR Y PONER MUCHA ATENCIÓN, CUALES SON LOS NÚMEROS QUE ESTAN ANTES Y DESPUES DE LOS NÚMEROS APUNTADOS EN EL SIGUIENTE CUADRO.

.....258.....	
.....342.....
432.....	
.....596.....	
.....684.....	
.....731.....	
.....845.....	
.....973.....	
.....986.....	
.....1352.....
2984.....3742.....

EN LA SIGUIENTE TAREAS Y CON LA AYUDA DE LA FAMILIA A MODO DE REPASO Y ENTRETENIMIENTO DEBERÁS IR RESOLVIENDO EL SIGUIENTE CRUCIGRAMA ...



A CONTINUACION RESOLVER LAS SIGUIENTES SUMAS...

$400 + 90 + 6 =$

$600 + 50 + 1 =$

$900 + 20 + 2 =$

$800 + 70 + 3 =$

$600 + 10 + 5 =$

$100 + 40 + 6 =$

$500 + 80 + 7 =$

$200 + 60 + 8 =$

$200 + 50 + 9 =$

$100 + 10 + 6 =$

$700 + 90 + 1 =$

$300 + 80 + 2 =$

$800 + 40 + 3 =$

$400 + 30 + 4 =$

$600 + 90 + 5 =$

$800 + 20 + 6 =$

$500 + 40 + 7 =$

$400 + 80 + 8 =$

$800 + 30 + 9 =$

$800 + 10 + 5 =$

$500 + 20 + 6 =$

$700 + 90 + 1 =$

$100 + 70 + 2 =$

$800 + 20 + 3 =$

$200 + 80 + 4 =$

$400 + 50 + 5 =$

$900 + 10 + 6 =$

$700 + 30 + 7 =$

$400 + 90 + 8 =$

$600 + 90 + 9 =$

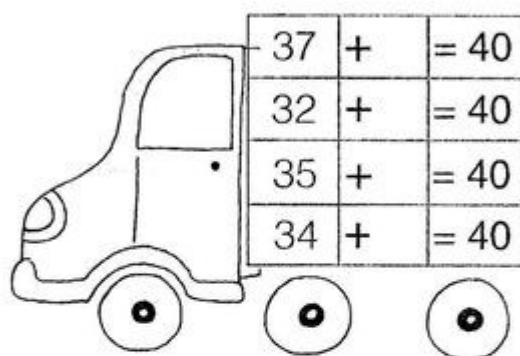
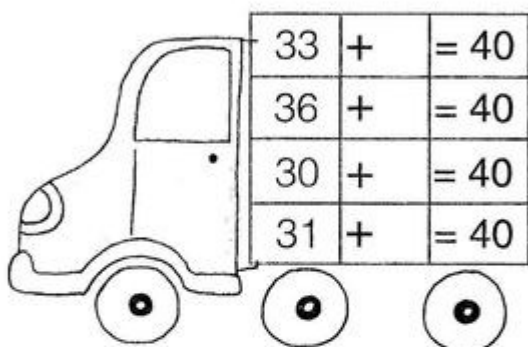
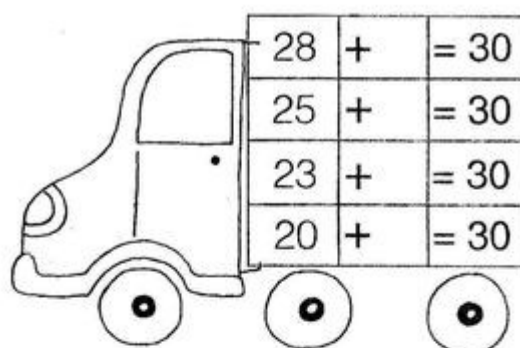
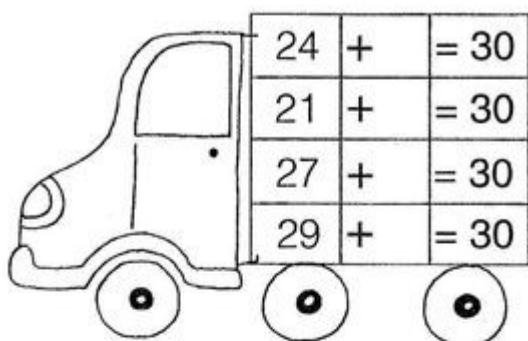
$800 + 50 + 0 =$

$500 + 6 =$

$700 + 70 + 6 =$

$600 + 10 + 3 =$

EN LA TAREAS SIGUIENTE DEBERÁS COMPLETAR LAS SIGUIENTES SUMAS ...



ACTIVIDADES DE CIENCIAS NATURALES.

LOS SERES VIVOS

TAREAS SIMPLES PARA DIFERENCIAR LOS SERES VIVOS DE LOS NO VIVOS ¿A SUMAR PUNTOS??

1. Pinta 4 objetos naturales. (1 punto cada uno)



2. Dibuja 3 elementos naturales y 3 elementos inertes. (1 punto cada uno)

Seres Vivos	Elementos Naturales

3. Pinta los seres vivos que se mueven en el aire. (1 punto cada animal bien pintado)



HOLA ALUMNO/AS EN LA SIGUIENTE TAREA Y OBSERVANDO CADA ACTIVIDAD DEBERÁS COMPLETAR LOS DITINTOS CUADRO DE ACUERDO A LO SOLICITADO.


TEMA: ANIMALES SEGÚN SU DESPLAZAMIENTO

1.- Marca con una (x), según corresponda.

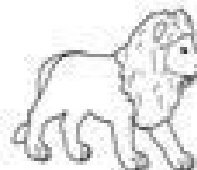
	Vuela	Camina	Se arrastra	Nada
loro				
ballena				
girafa				
caracol				
culebra				

2.- ¿Qué necesitan para trasladarse? Copia las palabras donde corresponda.

pates aletas alas



3.- Observa y une.



Vuela

Camina

Se arrastra

Nada

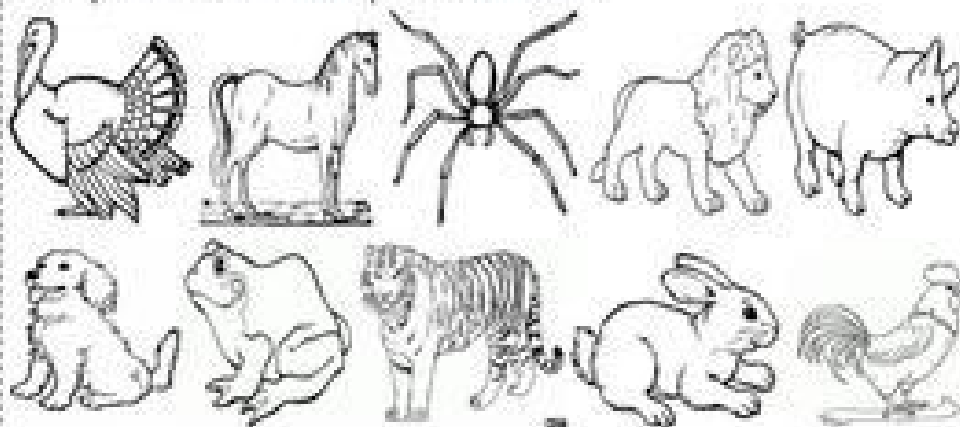
EN LA SIGUIENTE ACTIVIDAD DEBERÁS COMPLETAR LOS CUADROS DE ACUERDO A LA ALIMENTACION DE LOS DISTINTOS ANIMALES.

TEMA: ANIMALES POR SU ALIMENTACIÓN

1.-Marca con un aspa a qué grupo de animales corresponden según su alimentación.

	GRANÍVORO	HERBÍVORO	CARNÍVORO	INSECTÍVORO	OMNÍVORO
PALOMA					
TIGRE					
ARAÑA					
VACA					
HOMBRE					
BANA					

2.-Lee y clasifica los animales por su alimentación.



GRANÍVORO	HERBÍVORO	CARNÍVORO	INSECTÍVORO	OMNÍVORO

